

EVROPÁŘSKÝ KVÍZ



EVROPA CUP
11. ročník
11. - 12. 11. 2017
Máchovo jezero

PRAVIDLA

1. Gratuluji! Jste účastníkem Velké Mácháčské Evropářské soutěže. Hodně štěstí.
2. Účastníci Evropa Cupu a hravý doprovod je rozdělen do 4-6 přibližně stejně členných týmů.
3. Celá soutěž se skládá z 10 kol. Každé kolo má 5 otázek.
4. Vždy po dvou kolech následuje přestávka. (hudební vložka, čůrání, apod.)
5. Na každou otázku odpovídají všechny týmy současně, a to písemnou formou na předepsané formuláře.
6. Je zakázáno používat mobilní telefony a jinou moderní techniku. Soutěží se v duchu evropářského fair play.
7. Průběžné vyhodnocení je vždy po dvou kolech.
8. Zadání otázek se čte jen jedenkrát v rychlém sledu, po zadání poslední otázky je 1 minuta na dokončení odpovědí daných kola.
9. Za správnou odpověď u každé otázky se udělují 2 body. Nikdy více a současně se neuděluje část bodů za polovičně správnou odpověď. V každém kole tak tým může získat 10 bodů, výjimkou je 5.kolo, ve kterém lze získat až 15 bodů.

PRAVIDLA

10. Každý tým na jednoho žolíka a jednoho černého Petra. Žolík znamená, že týmu se zdvojnásobí počet bodu v daném kole. Tedy může získat 20 bodů. Černého Petra může každý tým udělit jinému týmu a znamená to, že daný tým získá v daném kole jen polovinu bodů. V jednom kole může jeden tým dostat jen jednoho černého Petra. Současně ale platí, že jeden tým může „dostat“ od ostatních týmu černého Petra vícekrát = ve více kolech. Žolík i Černý Petr se oznamuje veřejně před začátkem kola. Právo první volby má vždy tým, který má aktuálně nejméně bodů.
11. Maximálně lze získat 115 bodů. ($9 \times 10 = 90$ bodů, $1 \times 15 = 15$ bodů, Žolík 10 bodů)
12. V průběhu hry nemohou jednotliví hráči kolaborovat do jiných týmů.
13. Vyhrává tým, který získá nejvíce bodů, v případě rovnosti rozhodne o vítězi bonusové kolo, v případě přetrvávající rovnosti rozhodne o vítězi Roman Kala jako pořadatel EvropaCupu.
14. O správnosti a regulérnosti některých odpovědí můžete pochybovat, můžete s nimi nesouhlasit, ale to je tak všechno, co s tím můžete dělat. Správné odpovědi jsou takové, jaké určí pořadatel.

**NYNÍ PRO ZVÁŽENÍ STRATEGIE UDĚLOVÁNÍ ŽOLÍKŮ A ČERNÝCH PETRŮ A
CELKOVÉHO OBRAZU HRY PŘEDSTAVÍME TÉMATA JEDNOTLIVÝCH KOL:**

- 1. PUTOVNÍ CENY ALT EVROPA**
- 2. MUTANTI**
- 3. SLEPÁ MAPA**
- 4. INDÍCIE**
- 5. KDO JE TO?**
- 6. MLÁDÍ VPŘED**
- 7. PTÁKOVINY**
- 8. TECHNICKÉ PARAMETRY**
- 9. LÁSKA, SEX a NEŽNOSTI**
- 10. SAMI SOBĚ**

1. KOLO



4. KOLO



7. KOLO



2. KOLO



5. KOLO

8. KOLO



3. KOLO



6. KOLO



9. KOLO




10. KOLO



1.KOLO

Téma: **PUTOVNÍ CENY ALT EVROPA**



The background of the slide is a photograph of a calm lake under a blue sky with scattered white clouds. The water in the foreground shows gentle ripples. In the distance, a dark line of trees marks the horizon. A white rounded rectangle with a thin black border is centered on the slide, containing the text.

Otázka č.1:

Kdo byl prvním Mistrem ČSSR a současně vítězem Poháru ČSSR na Evropě v naší zemi v roce 1971?

Otázka č.2:

Vyjmenuj všechny držitelky ceny Prsoměrka.
(správná odpověď je taková, že žádná v seznamu nechybí a současně žádná není navíc, nemusí být ve správném pořadí)

Otázka č.3:

Kolikrát Marek Směšný vyhrál Mistrovství a Pohár dohromady?
Tolerance +- 2

Otázka č.4:

Vytvořte seznam posledních regulérně zaregistrovaných majitelů
Evrop všech sudých čísel od 1 do 20.


*(správná odpověď je taková, pokud je alespoň 8 správných
odpovědí, tzn. 8 a více.)*



Otázka č.5:


Konalo se někdy Mistrovství republiky LT Evropa od roku 1971 na Máchově jezeře?

UKONČENÍ 1. KOLA



2.KOLO

Téma: **MUTANTI**



Otázka č.1:

Na obrázku vidíte čtyři fotografie v jedné. Identifikujte na fotografii alespoň 3 Evropářky či Evropáře. Za správnou odpověď je považována jen ta, pokud uhádnete správně všechny čtyři osoby.



Otázka č.2:

Na obrázku vidíte čtyři fotografie v jedné. Identifikujte na fotografii alespoň 4 Evropářky či Evropáře. Za správnou odpověď je považována jen ta, pokud uhádnete správně všechny čtyři osoby.



Otázka č.3:

Na obrázku vidíte čtyři fotografie v jedné. Identifikujte na fotografii alespoň 3 Evropářky či Evropáře. Za správnou odpověď je považována jen ta, pokud uhádnete správně všechny čtyři osoby.



Otázka č.4:

Na obrázku vidíte čtyři fotografie v jedné. Identifikujte na fotografii alespoň 3 Evropářky či Evropáře. Za správnou odpověď je považována jen ta, pokud uhádnete správně všechny čtyři osoby.




Otázka č.5:

Na obrázku vidíte čtyři fotografie v jedné. Identifikujte na fotografii alespoň 3 Evropářky či Evropáře. Za správnou odpověď je považována jen ta, pokud uhádnete správně všechny čtyři osoby.




UKONČENÍ 2. KOLA



1.KOLO

VÝSLEDKY

Téma: **PUTOVNÍ CENY ALT EVROPA**



Otázka č.1:

Kdo byl prvním Mistrem ČSSR a současně vítězem Poháru ČSSR na Evropě v naší zemi v roce 1971?

Jindřich Crhák

Otázka č.2:

Vyjmenuj všechny držitelky ceny Prsoměrka. *(správná odpověď je taková, že žádná v seznamu nechybí a současně žádná není navíc, nemusí být ve správném pořadí)*

2001 - Markéta Schwarzová

2005 – Kačenka Šmídová

2007 – Barbora Vachelová

2008 – Martina Švancarová

2009 – Petra Šmídová

2011 – Anička Holyszewska

2013 – Marie Kilarová

2014 – Míša Zárubová

2015 – Kristýnka Sobotová

2017 – Anička Wehrenbergová

Otázka č.3:

Kolikrát Marek Směšný vyhrál Mistrovství a Pohár dohromady?
Tolerance +- 2

28

Otázka č.4:

Vytvořte seznam posledních regulérně zaregistrovaných majitelů Evrop všech sudých čísel od 1 do 20. *(správná odpověď je taková, pokud je alespoň 8 správných odpovědí, tzn. 8 a více.)*

2	Michla Kubík
4	Jana Landkammerová
6	Václav Novotný
8	Rostá Mareček
10	Karolina Hübnerová
12	Zděněk Chlup
14	Zděňka Vrzalová
16	Petr Míšenský
18	Hana Čermáková
20	Miloslav Soukal

Otázka č.5:


Konalo se někdy Mistrovství republiky LT Evropa od roku 1971 na Máchově jezeře?

NE

2.KOLO

VÝSLEDKY

Téma: **MUTANTI**





Marek Směšný, Vendy Škráčková, Roman Kafka, Filip Sivý



Jiří Žíla, Michal Tichánek, Katka Mojdlová, Pavel Bobek



David Lejhanec, Terka Kováčová, Lucka Kučerová, Míša Zárubová




Štěpán Sivý, Jan Škoda, Maruška Kilarová, Jirka Žáček



Kristýna Sobotová, Markéta Schwarzová, Petra Šmídová, Katka Chlupová

3. KOLO

Téma: **SLEPÁ MAPA**



Na základě nápovědy určete místo na slepé mapě a to poté zakreslit do slepé mapy. Za správnou odpověď je to zakreslení, pokud se střed značky vejde do tolerance.

Otázka č.1:

Hledáte osmý největší rybník v ČR, který byl založen ve 14.století na příkaz císaře Karla IV a je též nazýván Velký Rybník.

Na základě nápovědy určete místo na slepé mapě a to poté zakreslit do slepé mapy. Za správnou odpověď je to zakreslení, pokud se střed značky vejde do tolerance.

Otázka č.2:

Hledáte Petrův rybník. Poradíme, že nejúspěšnějším závodníkem klubu, který má domov na Petrově rybníku je v roce 2017 Vilém Hlavsa, který za 5 odjetých závodů získal 4599 logaritmických bodů.

Na základě nápovědy určete místo na slepé mapě a to poté zakreslit do slepé mapy. Za správnou odpověď je to zakreslení, pokud se střed značky vejde do tolerance.

Otázka č.3:

Hledáte dějiště třetího Evropa Cupu, jehož vítězkou zatím byla jediná žena Petra Šmídová.

Na základě nápovědy určete místo na slepé mapě a to poté zakreslit do slepé mapy. Za správnou odpověď je to zakreslení, pokud se střed značky vejde do tolerance.

• Otázka č.4:


Hledáte klub, kde mezi první jachtaře patřili Láďa Pešina, Mirek Urban a Karel Brožík. Ti také začali v roce 1955 v bývalém Hospitálu v Zámecké zahradě stavět dvě kajutové plachetnice třídy Beluga. V roce 1957 se lodě stěhovaly do bývalé svíčkárny v Husově ulici. Zde byl také v tomto roce založen Klub branného vodáctví, zastřešený Svazarmem. Klub má sídlo na ulici Kubincových.

Na základě nápovědy určete místo na slepé mapě a to poté zakreslit do slepé mapy. Za správnou odpověď je to zakreslení, pokud se střed značky vejde do tolerance.

Otázka č.5:


Hledáte čtvrtý největší rybník v ČR. Jachtaří se na něm a v jeho blízkosti najdete město, které je nazýváno městem nábytku. Snad všechny závody zde píská jako hlavní rozhodčí svým osobitým stylem František Kovařík.

UKONČENÍ 3. KOLA



4. KOLO

Téma: **INDÍCIE**



Na základě 4 indicií určete hledanou odpověď. Za správnou odpověď je považována jen ta, která je určena pořadatelem.

Otázka č.1:

7.2. - 118 – 1991 – 1901-030



Na základě 4 indicií určete hledanou odpověď. Za správnou odpověď je považována jen ta, která je určena pořadatelem.

Otázka č. 2:

Proces – Afrika_Španělsko_Vysočina – Rychlá rota + 1 – Tomáš



Na základě 4 indicií určete hledanou odpověď. Za správnou odpověď je považována jen ta, která je určena pořadatelem.

Otázka č. 3:

49,632_15,900 – Hrušky – Viktorín z Kunštátu – 206 ha



Na základě 4 indicií určete hledanou odpověď. Za správnou odpověď je považována jen ta, která je určena pořadatelem.

Otázka č. 4:

Lod' – David Černý – Kontinent – 2




Na základě 4 indicií určete hledanou odpověď. Za správnou odpověď je považována jen ta, která je určena pořadatelem.

Otázka č.5:

Velké Dářko – ČYK – Hluboká nad Vltavou – Horní Počernice


UKONČENÍ 4. KOLA



3. KOLO

VÝSLEDKY

Téma: **SLEPÁ MAPA**



Otázka č.1:

Hledáte osmý největší rybník v ČR, který byl založen ve 14.století na příkaz císaře Karla IV a je též nazýván Velký Rybník.

Máchovo jezero



Otázka č.2:

Hledáte Petrův rybník. Poradíme, že nejúspěšnějším závodníkem klubu, který má domov na Petrově rybníku je v roce 2017 Vilém Hlavsa, který za 5 odjetých závodů získal 4599 logaritmických bodů.

Krnov



Otázka č.3:

Hledáte dějiště třetího Evropa Cupu, jehož vítězkou zatím byla
jediná žena Petra Šmídová.

Senec



Otázka č.4:

Hledáte klub, kde mezi první jachtaře patřili Láďa Pešina, Mirek Urban a Karel Brožík. Ti také začali v roce 1955 v bývalém Hospitálu v Zámecké zahradě stavět dvě kajutové plachetnice třídy Beluga. V roce 1957 se lodě stěhovaly do bývalé svíčkárny v Husově ulici. Zde byl také v tomto roce založen Klub branného vodáctví, zastřešený Svazarmem. Klub má sídlo na ulici Kubincových.

Duchcov / Oldřichov



Otázka č.5:

Hledáte čtvrtý největší rybník v ČR. Jachtaří se na něm a v jeho blízkosti najdete město, které je nazýváno městem nábytku. Snad všechny závody zde píská jako hlavní rozhodčí svým osobitým stylem František Kovařík.


Dvořiště



4. KOLO

VÝSLEDKY

Téma: **INDÍCIE**



Otázka č.1:

7.2. - 118 – 1991 – 1901-030

svátek, číslo na plachtě, rok narození, registrační číslo

Veronika Hodačová

Otázka č. 2:

Proces – Afrika_Španělsko_Vysočina – Rychlá rota + 1 – Tomáš

román Franze Kafky, rozšíření ptáka Kavky –
Roman_Richard_Richard – Tomáš je taky Kafka

Kafka

Otázka č. 3:

49,632_15,900 – Hrušky – Viktorín z Kunštátu – 206 ha

poloha YC, tvar bójek– zakladatel Velkého Dářka – velikost
rybníku

Velké Dářko

Otázka č. 4:

Lod' – David Černý – Kontinent – 2

Lodní třída – Autor Entropy symbolizující stereotypy Evropy,
světadíl, rádio Evropa 2

Evropa

Otázka č.5 :


Velké Dářko – ČYK – Hluboká nad Vltavou – Horní
Počernice

jachtařské kluby, za které jezdila a její původní bydliště

Petra Ondíková

5. KOLO

Téma: **KDO JE TO?**




Postupně budeme odkrývat obrázek, který 3 zastavíme. Pokud uhádnete na první pokus, máte 3 body, na druhý 2 body, na třetí 1 bod. Pod odkrytí celého obrázku máte 0 bodů. Každý tým může odpovídat jen jednou, pokud tedy odpoví špatně již na první odkrytí, má bodů 0.

KDO TO JE?



Postupně budeme odkrývat obrázek, který 3 zastavíme. Pokud uhádnete na první pokus, máte 3 body, na druhý 2 body, na třetí 1 bod. Pod odkrytí celého obrázku máte 0 bodů. Každý tým může odpovídat jen jednou, pokud tedy odpoví špatně již na první odkrytí, má bodů 0.

KDO TO JE?



Postupně budeme odkrývat obrázek, který 3 zastavíme. Pokud uhádnete na první pokus, máte 3 body, na druhý 2 body, na třetí 1 bod. Pod odkrytí celého obrázku máte 0 bodů. Každý tým může odpovídat jen jednou, pokud tedy odpoví špatně již na první odkrytí, má bodů 0.

KDE TO JE?




Postupně budeme odkrývat obrázek, který 3 zastavíme. Pokud uhádnete na první pokus, máte 3 body, na druhý 2 body, na třetí 1 bod. Pod odkrytí celého obrázku máte 0 bodů. Každý tým může odpovídat jen jednou, pokud tedy odpoví špatně již na první odkrytí, má bodů 0.

KDO TO JE?



Postupně budeme odkrývat obrázek, který 3 zastavíme. Pokud uhádnete na první pokus, máte 3 body, na druhý 2 body, na třetí 1 bod. Pod odkrytí celého obrázku máte 0 bodů. Každý tým může odpovídat jen jednou, pokud tedy odpoví špatně již na první odkrytí, má bodů 0.

KDO TO JE?



6. KOLO

Téma: **MLÁDÍ VPŘED**



Otázka č.1:

Kolik jachtařů klanu Mojdl-Mojdlová zasáhlo do jachtařských bojů v roce 2017 tím, že mají alespoň jeden záznam ve výsledcích ČSJ?

The background of the slide is a photograph of a calm lake under a blue sky with scattered white clouds. The water in the foreground shows gentle ripples. In the distance, a dark line of trees marks the horizon. A white rounded rectangle is centered on the slide, containing the text.

Otázka č.2:

V jakém městě bydlí nejmladší účastník-závodník letošního Evropa Cupu?

The background of the slide is a photograph of a calm lake under a blue sky with scattered white clouds. The water in the foreground shows gentle ripples. A white rounded rectangle is centered on the slide, containing the text.

Otázka č. 3:

Jak se jmenuje teplická hudební kapela, ve které hraje Kuba Kršňák?

Otázka č.4:

Kolik titulů mistryně republiky v absolutním pořadí získala Anička Wehrenbergová v lodní třídě Splash?

The background of the slide is a photograph of a calm lake under a blue sky with scattered white clouds. The water in the foreground shows gentle ripples. In the distance, a dark line of trees marks the horizon. A white rounded rectangle with a thin black border is centered on the slide, containing the text.

Otázka č.5:


Jedním z juniorů je cena naše Sova. Víte přesně lokalitu, kde se pro LT Evropa narodila (odkud pochází putovní cena SOVA)?



6. KOLO

VÝSLEDKY

Téma: **MLÁDÍ VPŘED**



Otázka č.1:

Kolik jachtařů klanu Mojdl-Mojdlová zasáhlo do jachtařských bojů v roce 2017 tím, že mají alespoň jeden záznam ve výsledcích ČSJ?

4

Martin, Ondřej, Jan, Katka

Otázka č.2:

V jakém městě bydlí nejmladší účastník-závodník letošního Evropa Cupu?

Blansko
Martin Kubík

Otázka č. 3:

Jak se jmenuje teplická hudební kapela, ve které hraje Kuba Kršňák?

Midwife

Otázka č.4:

Kolik titulů mistryně republiky v absolutním pořadí získala Anička Wehrenbergová v lodní třídě Splash?

2


Otázka č.5:

Jedním z juniorů je cena naše Sova. Víte přesně lokalitu, kde se pro LT Evropa narodila (odkud pochází putovní cena SOVA)?

Lipno - Hruštice

7. KOLO

Téma: **PTÁKOVINY**



The background of the slide is a photograph of a calm lake under a blue sky with scattered white clouds. The water in the foreground shows gentle ripples. In the distance, a dark line of trees marks the horizon. A white rounded rectangle with a thin black border is centered on the slide, containing the text.

Otázka č.1:

Kolik Finařů je třeba na složení jedné lodě třídy Optimist?

Otázka č. 2:

Jaká je výška nejmenšího Evropáře Marrečka, víte-li, že Zdeněk Chlup měří 169 cm?

Otázka č.3:

Dokonči co nejvtipněji verš. Bod získá jen jeden tým (maximálně dva), jehož verš získá největší ocenění publika a poroty. *Můžete dokončit celou sloku tedy 2 verše: „Evropa Cup na Mácháči,.....“*

The background of the slide is a photograph of a calm lake under a blue sky with scattered white clouds. The water in the foreground shows gentle ripples. In the distance, a dark line of trees marks the horizon. A white rounded rectangle with a thin black border is centered on the slide, containing the text.


Otázka č.4:

Urči 2 jídla, která si Suki, a žádná jiná, vozí na závody?

The background of the slide is a photograph of a calm lake under a blue sky with scattered white clouds. The water in the foreground shows gentle ripples. In the distance, a dark line of trees marks the horizon. A white rounded rectangle with a thin black border is centered on the slide, containing the text.


Otázka č.5:

Která vodní plocha je nazývána “největším kapučínem v Evropě”?



8. KOLO

Téma:  Technické parametry



The background of the slide is a photograph of a calm lake under a blue sky with scattered white clouds. The water in the foreground shows gentle ripples. In the distance, a dark line of trees marks the horizon. A white rounded rectangle with a thin black border is centered on the slide, containing the text.

Otázka č.1:

Jaká je délka lodě Evropa v centimetrech? Tolerance 5 cm

The background of the slide is a photograph of a calm body of water, likely a lake, under a bright blue sky with scattered white clouds. The water's surface shows gentle ripples. In the distance, a dark, tree-lined shore is visible. A white rounded rectangle with a thin black border is centered on the slide, containing the text.

Otázka č.2:

Urči pořadí lodních tříd dle velikosti plachet od největší: Evropa, Laser Radial, Cadet (bez spinakru), RS Feva (bez genakru), Finn.

The background of the slide is a photograph of a calm lake under a blue sky with scattered white clouds. The water in the foreground shows gentle ripples. In the distance, a dark line of trees marks the horizon. A white rounded rectangle with a thin black border is centered on the slide, containing the text.

Otázka č.3:

Jaká je barva nálepek české asociace lodní třídy Evropa pro rok 2017?

The background of the slide is a photograph of a calm body of water, likely a lake, under a bright blue sky with scattered white clouds. The water's surface shows gentle ripples. In the distance, a dark, forested shoreline is visible. The text is presented in a white rounded rectangle with a thin black border.

Otázka č.4:

V jakém roce vymyslel Alois Roland podobu lodní třídy Evropa?
Napovíme, že v tomto roce se Československá republika přejmenovala na Československou socialistickou republiku, byla vynalezena Kofola a tento rok je nazýván rokem „Afriky“ – hodně států získalo nezávislost.

The background of the slide is a photograph of a calm body of water, likely a lake, under a bright blue sky with scattered white clouds. The water's surface shows gentle ripples. In the distance, a dark, forested shoreline is visible. A white, rounded rectangular box is superimposed over the center of the image, containing the text.

Otázka č.5:

Jaká je výška stěžně lodní třídy Evropa v metrech, zaokrouhlena na jedno desetinné místo? Tolerance 1 dm.



7. KOLO

VÝSLEDKY

Téma: **PTÁKOVINY**



Otázka č.1:

Kolik Finařů je třeba na složení lodě třídy Optimist?

5

Viz foto



Otázka č. 2:

Jaká je výška nejmenšího Evropáře Marrečka, víte-li, že Zdeněk Chlup měří 169 cm?

168 a méně

Otázka č.3:

Dokonči co nejvtipněji verš. Bod získá jen jeden tým (maximálně dva), jehož verš získá největší ocenění publika a poroty. *Můžete dokončit celou sloku tedy 2 verše: „Evropa Cup na Mácháči,.....“*

?

Otázka č.4:

Urči 2 jídla, která si Suki, a žádná jiná, vozí na závody?

Smažený řízek a sekaná

Otázka č.5:


Která vodní plocha je nazývána “největším kapučinem v Evropě”?

Neusiedlersee

8. KOLO

VÝSLEDKY

Téma: **TECHNICKÉ PARAMETRY**



Otázka č.1:

Jaká je délka lodě Evropa v centimetrech? Tolerance 5 cm

335 cm

Otázka č.2:

Urči pořadí lodních tříd dle velikosti plachet od největší: Evropa, Laser Radial, Cadet (bez spinakru), RS Feva (bez genakru), Finn.

Finn – 10 m², RS Feva – 8,3 m²; Evropa – 7 m²;
Laser Radial 5,7 m²; Cadet – 5,65 m²

Otázka č.3:

Jaká je barva nálepek české asociace lodní třídy Evropa pro rok 2017?

růžová

Otázka č.4:

V jakém roce vymyslel Alois Roland podobu lodní třídy Evropa?
Napovíme, že v tomto roce se Československá republika přejmenovala na Československou socialistickou republiku, byla vynalezena Kofola a tento rok je nazýván rokem „Afriky“ – hodně států získalo nezávislost.

1960


Otázka č.5:

Jaká je výška stěžně lodní třídy Evropa v metrech, zaokrouhlena na jedno desetinné místo? Tolerance 1 dm.

4,895m – tzn. 4,9m (4,8 – 5,0m)

9. KOLO

Téma: **LÁSKA, SEX a NĚŽNOSTI**



Otázka č.1:

Poznejte bývalou či současnou Evropářku dle popisu z dávného jachtařského soustředění, ketou milovali všichni kluci i trenéři?

OSOBNOST DNE



"TATO HVĚZDA ROSTE DO KRÁSY.
ALESPON MUŽSKÁ ČÁST KEHPU
NA NI NEDA' DOPUSTIT A CENÍ
SI ZEJMÉNA ZVLÁŠTNÍ BARVY
JEJÍCH DLOUHÝCH VLASŮ.
KDYBY PRY' LÉTE ŠPLHALA
A UDEĽALA VÍC KLIKŮ, MOHLA
BY SE STA'T
MISS ZEHĚKOULE."

Otázka č.2:

Klasický příklad spojení moci soudní a výkonné, navíc s rodinným napojením na lobbisty moci zákonodárné. O jaké milenecké dvojici je tato definice?

Otázka č.3:


Urči dívčí příjmení těchto Evropářek?
Chlupová, Bezušková, Směšná, Říhová, Bauerová, Skolková, Vydra,
Hübnerová

Otázka č.4:

Jak se jmenuje celým jménem teď již bývalá Evropářka, kterou milovalo snad 96% kluků? Měla číslo evropářské plachty 34?


Otázka č.5:

Láska hory přenáší. Který intimní vztah české evropářky a evropáře dokazuje toto rčení, jelikož tito dva milenci mají své rodné domy v České republice nejdále od sebe?



10. KOLO

Téma: **SAMI SOBĚ**



The background of the slide is a photograph of a calm lake under a blue sky with scattered white clouds. The water in the foreground shows gentle ripples. In the distance, a dark line of trees marks the horizon. A white rounded rectangle with a thin black border is centered on the slide, containing the text.

Otázka č.1:

Kde byste chtěli Evropa Cup v některém z následujících roků?
(Podmínkou je, že se zde ještě nekonal)

Otázka č.2:

Jakou lodní třídu byste nejraději slavnostně spálili?
(Myšleno s nadsázkou a humorem)

The background of the slide is a photograph of a calm lake under a blue sky with scattered white clouds. The water in the foreground shows gentle ripples. In the distance, a dark line of trees marks the horizon. A white rounded rectangle with a thin black border is centered on the slide, containing the text.

Otázka č.3:

Kterou z putovních trofejí ALT Evropa byste nejraději chtěli získat?
(Výběr: Mistr ČR, Pohár ČR, Sova, Prsoměrka, Vítěz Evropa Cupu)

The background of the slide is a photograph of a calm lake under a blue sky with scattered white clouds. The water in the foreground is dark blue with gentle ripples. In the distance, a line of green trees is visible on the horizon. A white rounded rectangle with a thin black border is centered on the slide, containing the text.

Otázka č.4:

S kterým Evropářem byste nejraději zdolali Mont Blanck?
(odpovídají i kluci)

The background of the slide is a photograph of a calm lake under a blue sky with scattered white clouds. The water in the foreground is dark blue with gentle ripples. In the distance, a line of green trees is visible on the horizon. A white rounded rectangle with a thin black border is centered on the slide, containing the text.

Otázka č.5:


S kterou Evropářkou byste nejraději uvízli ve výtahu?
(odpovídají i holky)



9. KOLO

VÝSLEDKY

Téma: **LÁSKA, SEX a NĚŽNOSTI**



Otázka č.1:

Poznejte bývalou či současnou Evropářku dle popisu z dávného jachtařského soustředění, ketou milovali všichni kluci i trenéři?



OSOBNOST DNE

„TATO HVĚZDA ROSTE DO KRÁSY.
ALESPON MUŽSKÁ ČÁST KEHTU
NA NI NEDA' DOPUSTIT A CENÍ
SI ZEJMÉNA ZVLÁŠTNÍ BARVY
JEJÍCH DLOUHÝCH VLASŮ.
KDYBY PRY' LÉPE ŠPLHALA
A UDEĽALA VÍC KLIKŮ, MOHLA
BY SE STA'T

MISS ZEHĚKOULE“

Martina Švancarová

Otázka č.2:

Klasický příklad spojení moci soudní a výkonné, navíc s rodinným napojením na lobbisty moci zákonodárné. O jaké milenecké dvojici je tato definice?

Petra Ondíková – Ríša Kafka

Otázka č.3:

Urči dívčí příjmení těchto Evropářek?

Chlupová, Bezušková, Směšná, Říhová, Bauerová, Skolková, Vydra,
Hübnerová

Šmídová, Landkammerová, Vašíčková,
Skotnicová, Landkammerová,
Švancarová, Šmídová, Trenzová

Otázka č.4:

Jak se jmenuje celým jménem teď již bývalá Evropářka, kterou milovalo snad 96% kluků? Měla číslo evropářské plachty 34?

Markéta Schwarzová

Otázka č.1:


Láska hory přenáší. Který intimní vztah české evropářky a evropáře dokazuje toto rčení, jelikož tito dva milenci mají své rodné domy v České republice nejdále od sebe?

Míša Zárubová – Pavel Bobek

10. KOLO

VÝSLEDKY

Téma: **SAMI SOBĚ**



Otázka č.1:

Kde byste chtěli Evropa Cup v některém z následujících roků?
(Podmínkou je, že se zde ještě nekonal)

Barbora, Oldřichov

Otázka č.2:

Jakou lodní třídu byste nejraději slavnostně spálili?
(Myšleno s nadsázkou a humorem)

Laser

Otázka č.3:

Kterou z putovních trofejí ALT Evropa byste nejraději chtěli získat?
(Výběr: Mistr ČR, Pohár ČR, Sova, Prsoměrka, Vítěz Evropa Cupu)

Prsoměrka

Otázka č.4:

S kterým Evropářem byste nejraději zdolali Mont Blanck?
(odpovídají i kluci)

Ríša Kafka ml.

Otázka č.5:

S kterou Evropářkou byste nejraději uvízli ve výtahu?
(odpovídají i holky)

Katka Mojdlová

CELKOVÉ POŘADÍ

1

STARÁ
CHLUPATÁ

2

RYCHLÁ
ŠESTKA

3

ULAANBAATAR

4

BEZDREV+SUKY

5

PPK

6

VÁŇOVI KONĚ

7

UMPRDELE

Děkujeme za účast a těšíme se na další díly oblíbeného seriálu Evropa Cup!

